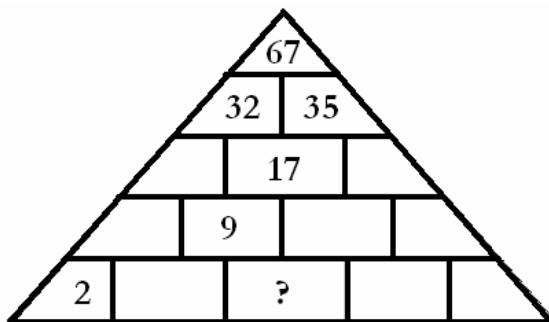
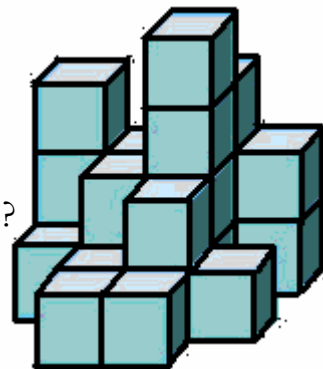


1. Dvojčky majú teraz 15 rokov. O štyri roky sa súčet ich veku bude rovnať súčasnému veku ich matky. Koľko rokov mala ich matka, keď sa narodili ?

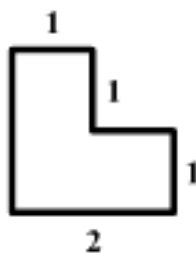
2. Aké číslo nahradí otáznik ?



3. Koľko kociek treba na doplnenie tohto útvaru do plnej kocky 4 x 4 x 4 ?



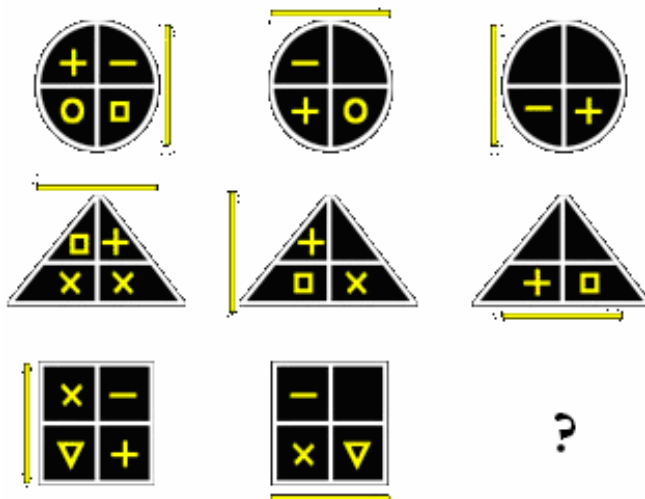
4. Rozdeľ obrázok na 4 rovnaké časti.



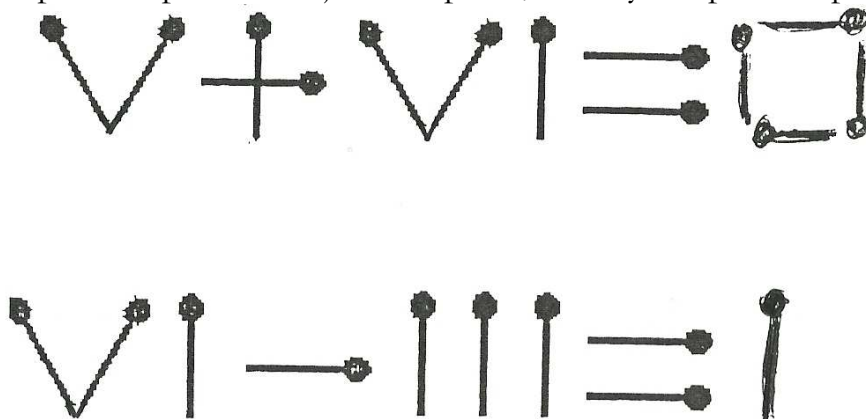
5. Namiesto otáznikov doplň čísla 1 ; 2 ; 3 ; 4 aby platila rovnosť

$$? + ? - (? + ?) = 4$$

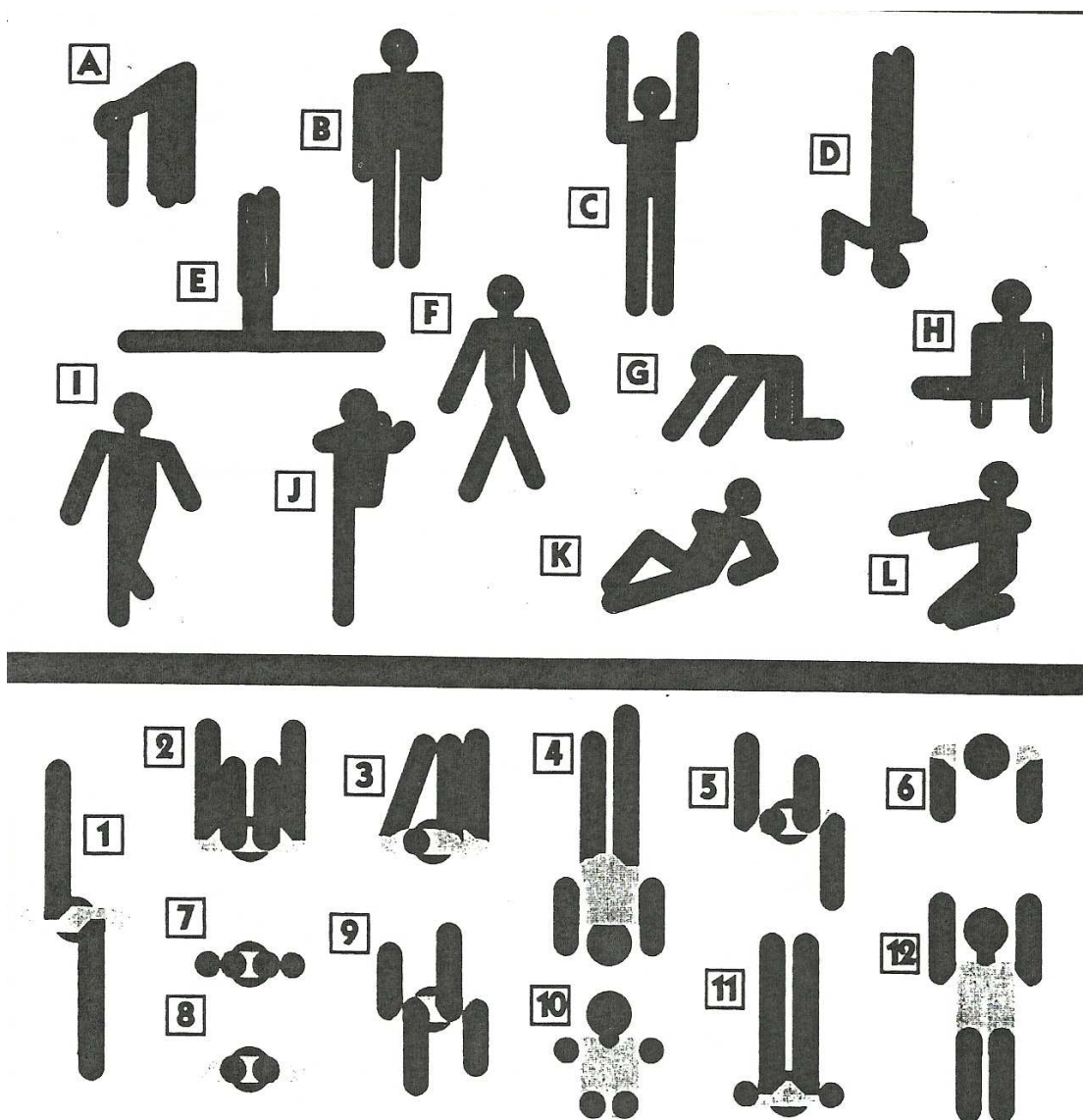
6. Nakresli obrazec, ktorý patrí namiesto otáznika.



7. V každom príklade premiestni jednu zápalku, tak aby bol príklad správny.



8. Obrázky označené písmenami predstavujú pohľad spredu.
 Obrázky označené číslami predstavujú pohľad zdola.
 Nájdi správne dvojice obrázkov.



9. Do koliesok vpíš čísla od 1 do 19,
 tak aby bol súčet na každej línii rovnaký.

